

Time: 30 Minutes Paper Math 3 (T1) Total Marks: 25

1st Month, 1st Week, 6th Day Syllabus: Revision Test (First Week)

SECTION-I

☆ Solve all questions.

تمام سوالات حل کریں۔






Q.No.1: Write in the Roman Number. (3)

رومن اعداد میں لکھیں۔

19 =	<input type="text"/>	20 =	<input type="text"/>	15 =	<input type="text"/>
10 =	<input type="text"/>	8 =	<input type="text"/>	13 =	<input type="text"/>

Q.No.2: Write the number of the following objects and identify whether they are even or odd. (5)

درج ذیل چیزوں کو گن کر عدد لکھیں اور بتائیں کہ یہ جفت ہے یا طاق۔

	<input type="text"/>
	<input type="text"/>
	<input type="text"/>
	<input type="text"/>
	<input type="text"/>

SECTION-II

Q.No.3: Write the even numbers between the given numbers. (3)

دیے گئے اعداد کے درمیان جفت اعداد لکھیں۔

20 and 28

20 اور 28

<input type="text"/>

Q.No.4: Separate the even numbers from the given numbers. (2)

دیے گئے اعداد میں سے جفت اعداد الگ الگ کریں۔

21, 28, 35, 56, 67, 73, 79, 80, 84, 93

Even Numbers

جفت اعداد

<input type="text"/>

Q.No.5: Write the missing Roman numbers in blank boxes. (4)

نامعلوم رومن اعداد سے خالی خانے پُر کریں۔

I		III			VI	
		X		XII	XIII	XV

SECTION-III

Q.No.6: Match the column. (5)

کالم ملائیں۔

XIX
VII
XV
XI
IX

11
15
9
8
19

Q.No.7: Define odd numbers. (3)

طاق اعداد کی تعریف کریں۔

<input type="text"/>
<input type="text"/>
<input type="text"/>